

27.09.2024  
**venetonight**  
la notte della ricerca



Università  
Ca' Foscari  
Venezia



Funded by  
the European Union



European Research Council  
Established by the European Commission

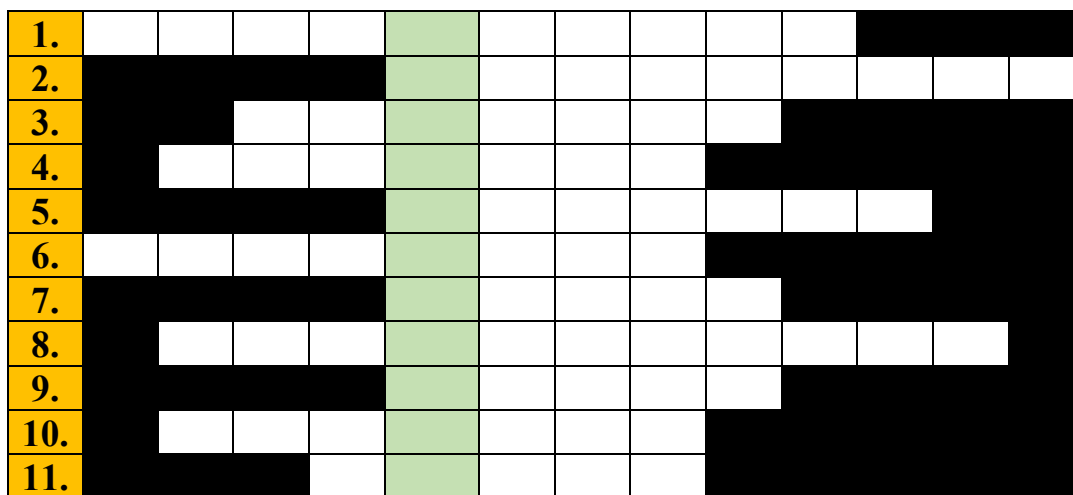


## **ALLA SCOPERTA DELL'ANTICA ANATOLIA (DI)SEGNI GEROGLIFICI E CUNEIFORMI**

Funded by the European Union (ERC-2022-COG, CAnCAn, G.A. 101088363). Views and opinions expressed are however those of the author(s) only and do not necessarily reflect those of the European Union or the European Research Council Executive Agency. Neither the European Union nor the granting authority can be held responsible for them. This work is supported by ERC grant (ERC-2022-COG, CAnCAn, G.A. 101088363).

# I. Come si chiama la disciplina che studia la lingua e la cultura degli Ittiti?

Completa il cruciverba scegliendo tra le opzioni proposte. La risposta apparirà nella colonna evidenziata



- |          |            |                 |           |
|----------|------------|-----------------|-----------|
| Opzioni: | Assiria    | (Piero) Meriggi | Turchia   |
|          | luvio      | Greci           | Qadeš     |
|          | cuneiforme | geroglifica     | tavolette |
|          | Hattusa    | Anatolia        |           |

1. Gli Ittiti usavano la scrittura \_\_\_\_\_.
2. Gli Ittiti scrivevano sulle \_\_\_\_\_ di argilla.
3. La capitale degli Ittiti si chiamava \_\_\_\_\_.
4. Un'importante studioso italiano, esperto di lingue anatoliche, si chiamava \_\_\_\_\_.
5. Il paese dove anticamente abitavano gli Ittiti è la \_\_\_\_\_ odierna.
6. La regione centrale della Turchia abitata dagli Ittiti si chiama \_\_\_\_\_.
7. Insieme all'ittita il \_\_\_\_\_ era un'altra lingua dell'antica Anatolia.
8. I Luvi hanno usato due tipi di scritture: la scrittura cuneiforme e la scrittura \_\_\_\_\_.
9. I \_\_\_\_\_ sono stati molto influenzati dagli Ittiti.
10. L' \_\_\_\_\_ fu un altro grande impero del Vicino Oriente antico.
11. Gli Ittiti hanno combattuto una grande battaglia contro gli Egizi che viene ricordata come "La battaglia di \_\_\_\_\_".

## II. Gli stati del Vicino Oriente antico

Scrivi il nome dei principali stati del Vicino Oriente antico sulla mappa



1. Babilonia – Mesopotamia meridionale
2. Assiria – Mesopotamia settentrionale
3. Impero degli Ittiti
4. Egitto
5. Grecia


### III. Città e fiumi del Vicino Oriente antico

Scrivi il nome delle principali città e dei fiumi del Vicino Oriente antico sulla mappa (ricorda dove erano gli stati!)



1. Hattusa, la capitale degli Ittiti
2. Babilonia, la capitale dei Babilonesi
3. Ninive, la capitale dell'Assiria
4. Susa, la capitale dell'Elam
5. Menfi, città dell'antico Egitto
6. Amarna, città dell'antico Egitto centrale
7. Fiume Eufrate
8. Fiume Tigri
9. Fiume Nilo
10. Fiume Alis, il fiume più lungo dell'Anatolia centrale

## IV. Collega i rilievi alla descrizione



a) Rilievo di Katuwa da Karkamiš (con iscrizione geroglifica)

Nr. \_\_\_\_\_

b) Gavur Kaleli – rilievo di due guerrieri (dei) sulla roccia

Nr. \_\_\_\_\_

c) Porta delle Sfingi a Hattusa

Nr. \_\_\_\_\_

d) Processione degli dei a Yazılıkaya

Nr. \_\_\_\_\_

e) Ivriz – rilievo con un re e il dio Tarhunzas “della vigna”

Nr. \_\_\_\_\_


f) Rilievo di caccia al cervo

Nr. \_\_\_\_\_

## V. Riconosci le scritture antiche

- La scrittura cuneiforme      Nr. \_\_\_\_\_
- I geroglifici anatolici      Nr. \_\_\_\_\_
- La scrittura fenicia      Nr. \_\_\_\_\_
- I geroglifici egizi      Nr. \_\_\_\_\_


Nr. 1



Nr. 2



Nr. 3



Nr. 4



**VI. Colora i rilievi ed inventa una breve favola su uno dei  
disegni**

